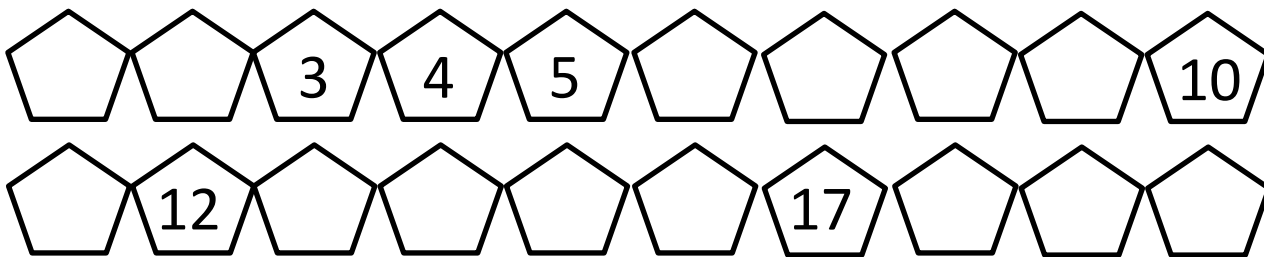


# MAT 2 – ŠTVRŤROČNÁ PÍ SOMNÁ PRÁCA Z MATEMATIKY

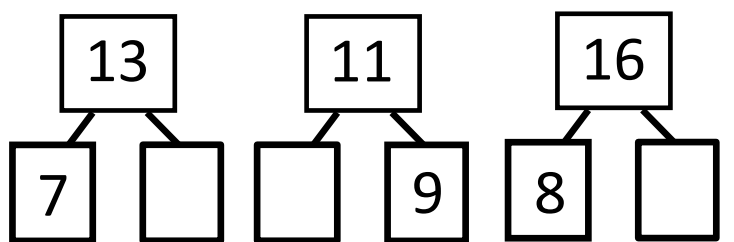
Meno a priezvisko : \_\_\_\_\_ Trieda : \_\_\_\_\_

1. Očísluj domčeky. Dopln chýbajúce čísla v číselnom rade :



1b

2. Rozlož čísla :



3b

3. Dopíš matematickú rodinku :

7	+	8	=	

3b

4. Porovnaj alebo doplň číslo do nerovnice:

$$\begin{array}{ccc}
 12 & \square & 11 \\
 9 & \square & 19
 \end{array}
 \quad
 \begin{array}{c}
 \text{---} > 18 \\
 \text{---} < 15
 \end{array}$$

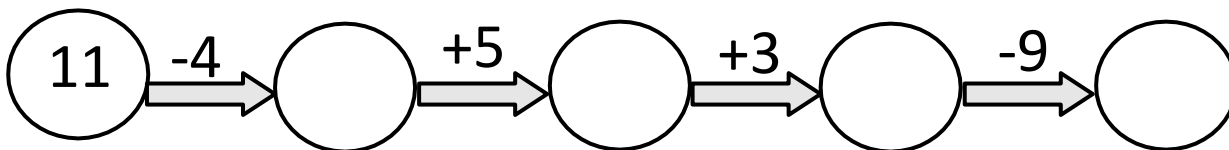
4b

5. Napíš čísla pred a za daným číslom :

\_\_\_\_\_, 16, \_\_\_\_\_  
 \_\_\_\_\_, \_\_\_\_\_, 11

2b


6. Vypočítaj reťazovku :




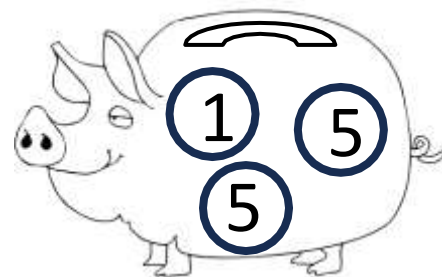
1b

7. Spočítaj, koľko centov je v pokladničkách :

3b







**8. Usporiadaj čísla v každom riadku:**

2b

od najmenšieho po najväčšie



14	7	2	19	13					
8	20	11	16	5					

od najväčšieho po najmenšie



2b

15	4	17	10	1					
9	12	20	3	18					

**9. Vypočítaj :**

**10.. Dopln chýbajúce čísla:**

12	+	4	=	
6	+	11	=	
3	+	9	=	
8	+	4	=	
7	+	7	=	

20	-	6	=	
19	-	5	=	
20	-	12	=	
11	-	2	=	
14	-	9	=	

10b

13	+		=	18
	-	6	=	11
	+	16	=	17
19	-		=	12
	-	5	=	10

5b

**11. Slovná úloha: Jeme koláče.**

Koláčov ..... 11

Mirka ..... 5

Linda ..... ?

--	--	--	--	--

Linda zjedla \_\_\_\_ koláčov.

2b

**12. Slovná úloha: Oberáme jablká.**

Janko ..... 5

Jurko ..... 8

Zjedli ..... 6

Zostalo ..... ?

--	--	--	--	--	--	--

Zostalo \_\_\_\_ jablk.

2b

**13. Narysuj priame čiary. Spoj rovnaké body.**

2b



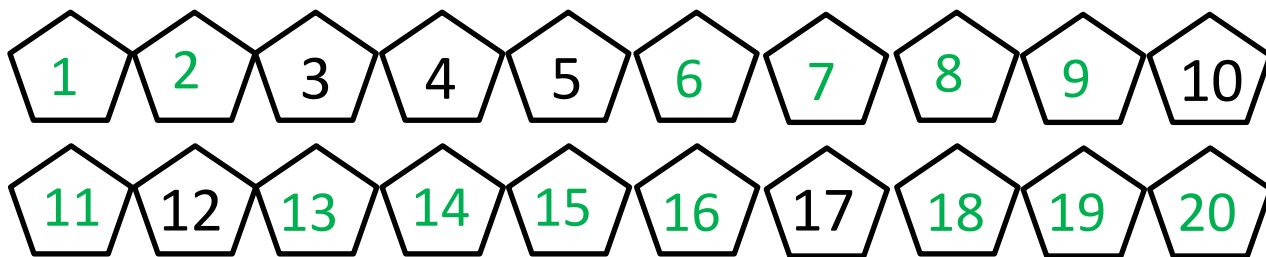
Počet bodov: \_\_\_\_\_ zo 42

Počet percent : \_\_\_\_\_

# MAT 2 – ŠTVRŤROČNÁ PÍ SOMNÁ PRÁCA Z MATEMATIKY

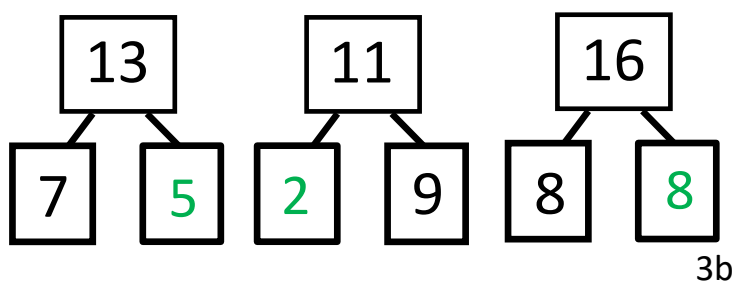
Meno a priezvisko : \_\_\_\_\_ Trieda : \_\_\_\_\_

3. Očísluj domčeky. Dopln chýbajúce čísla v číselnom rade :



1b

4. Rozlož čísla :



3b

3. Dopíš matematickú rodinku :

7	+	8	=	15
8	+	7	=	15
15	-	7	=	8
15	-	8	=	7

3b

4. Porovnaj alebo doplň číslo do nerovnice:

$$\begin{array}{l} 12 > 11 & \underline{19} > 18 \\ 9 < 19 & \underline{11} < 15 \end{array}$$


4b

5. Napíš čísla pred a za daným číslom :

$$\begin{array}{l} \underline{15}, 16, \underline{17} \\ \underline{9}, \underline{10}, 11 \end{array}$$

2b


6. Vypočítaj reťazovku :




1b

7. Spočítaj, koľko centov je v pokladničkách :


3b



18 c



12 c



11 c

8. Usporiadaj čísla v každom riadku:

2b

od najmenšieho po najväčšie



14	7	2	19	13	2	7	13	14	19
8	20	11	16	5	5	8	11	16	20

od najväčšieho po najmenšie



2b

15	4	17	10	1	17	15	10	4	1
9	12	20	3	18	20	18	12	9	3

9. Vypočítaj :

10.. Dopln chýbajúce čísla:

12	+	4	=	16
6	+	11	=	17
3	+	9	=	12
8	+	4	=	12
7	+	7	=	14

20	-	6	=	14
19	-	5	=	14
20	-	12	=	8
11	-	2	=	9
14	-	9	=	5

10b

13	+	5	=	18
17	-	6	=	11
1	+	16	=	17
19	-	7	=	12
15	-	5	=	10

5b

11. Slovná úloha: Jeme koláče.

Koláčov ..... 11

Mirka ..... 5

Linda ..... ?

$$11 - 5 = 6$$

Linda zjedla 6 koláčov.

2b

12. Slovná úloha: Oberáme jablká.

Janko ..... 5

Jurko ..... 8

Zjedli ..... 6

Zostalo ..... ?

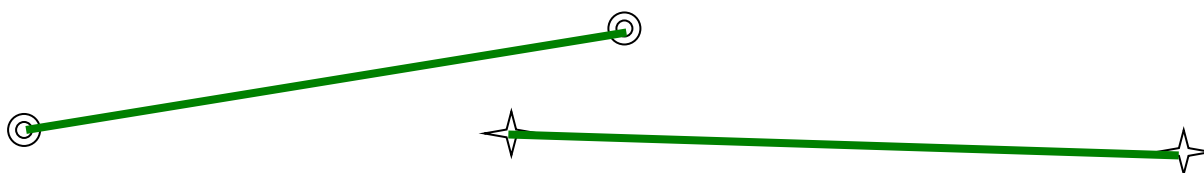
$$5 + 8 - 6 = 7$$

Zostalo 7 jablk.

2b

13. Narysuj priame čiary. Spoj rovnaké body.

2b



Počet bodov: \_\_\_\_\_ zo 42

Počet percent : \_\_\_\_\_