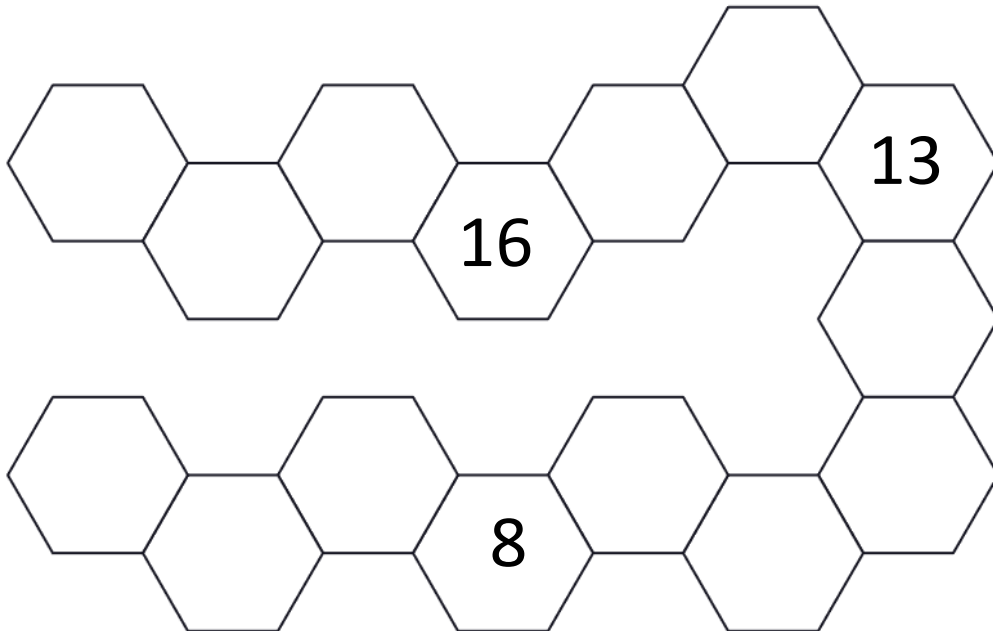


## Vstupná písomná práca – 2. ročník - A

1. Dopln **všetky** chýbajú čísla



2. Zväčši dané čísla o 4

6	11	5	13	16	10	4	1


3. Zmenši dané čísla o 5

17	20	9	6	15	8	5	18



4. Peťko má v akváriu 18 rybičiek, čo je o 7 menej ako má Klárka. Koľko rybičiek má Klárka?

5. Vyfarbi **červenou** farbou trojuholníky, **modrou** obdĺžniky, **zelenou** kruhy a **žltou** štvorce. Do tabuľky zapíš ich počet a potom ich všetky spočítaj



	Počet
<b>Trojuholník</b>	
<b>Štvorec</b>	
<b>Kruh</b>	
<b>obdĺžnik</b>	

Všetkých spolu je \_\_\_\_\_

6. Vypočítaj :

$15 - 5 =$

$7 + 12 =$

$13 + 5 =$

$19 - 6 =$

$14 - 3 =$

$9 - 8 =$

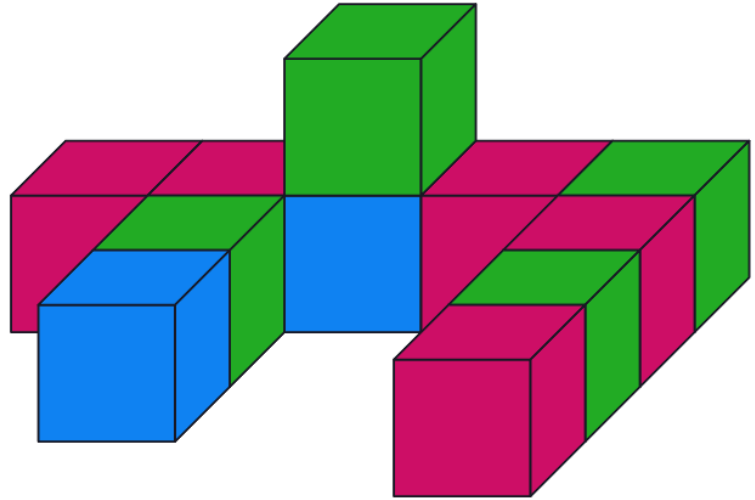
$6 + 4 =$

$18 - 2 =$

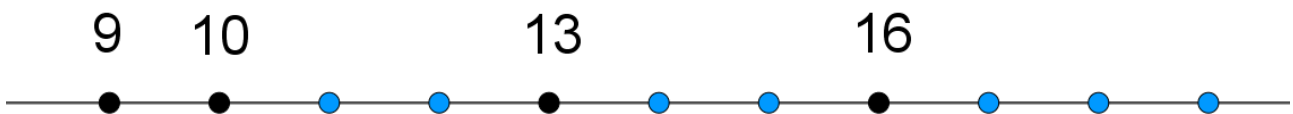
$12 + 4 =$

7. Pozri sa na obrázok a napíš, koľko kociek som použil na stavbu:

- a) červených
- b) modrých
- c) zelených
- d) všetkých spolu



8. Aké **čísla** sú na modrých bodoch? Dopíš ich!



9. Koľko je hodín?





