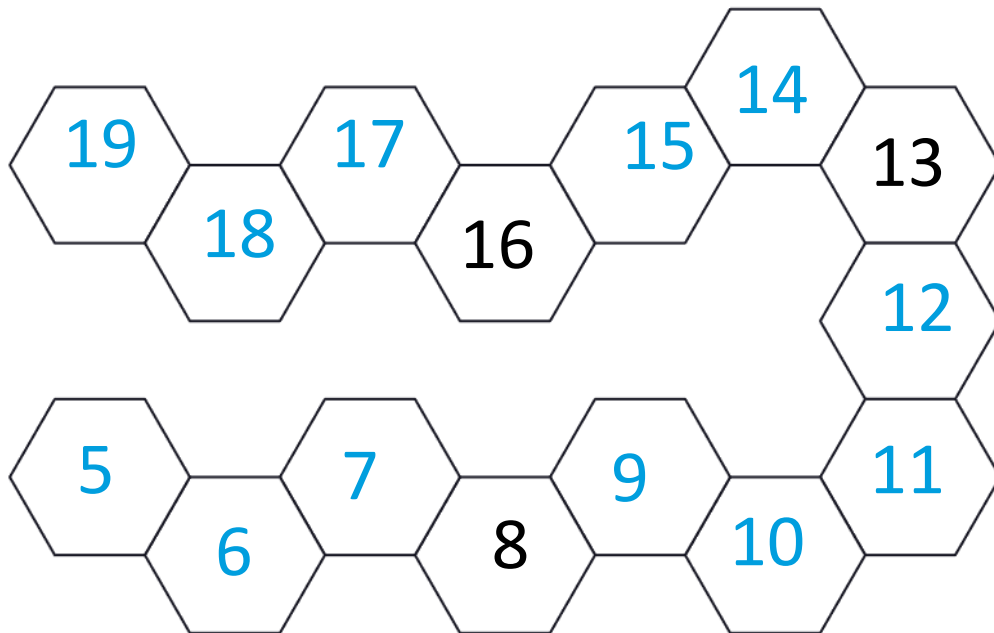


Vstupná písomná práca – 2. ročník - A

1. Dopln **všetky** chýbajú čísla



2. Zväčši dané čísla o 4

6	11	5	13	16	10	4	1
10	15	9	17	20	14	8	5

3. Zmenši dané čísla o 5

17	20	9	6	15	8	5	18
12	15	4	1	10	3	0	13




4. Peťko má v akváriu 18 rybičiek, čo je o 7 menej ako má Klárka. Koľko rybičiek má Klárka?

Peťko18 rybičiek

Klárka $18 - 7 = \underline{11}$ rybičiek

5. Vyfarbi **červenou** farbou trojuholníky, **modrou** obdĺžniky, **zelenou** kruhy a **žltou** štvorce. Do tabuľky zapíš ich počet a potom ich všetky spočítaj



	Počet
Trojuholník	3
Štvorec	3
Kruh	5
obdĺžnik	4

Všetkých spolu je $3 + 3 + 5 + 4 = 15$

6. Vypočítaj :

$$15 - 5 = 10$$

$$7 + 12 = 19$$

$$13 + 5 = 18$$

$$19 - 6 = 13$$

$$14 - 3 = 11$$

$$9 - 8 = 1$$

$$6 + 4 = 10$$

$$18 - 2 = 16$$

$$12 + 4 = 16$$

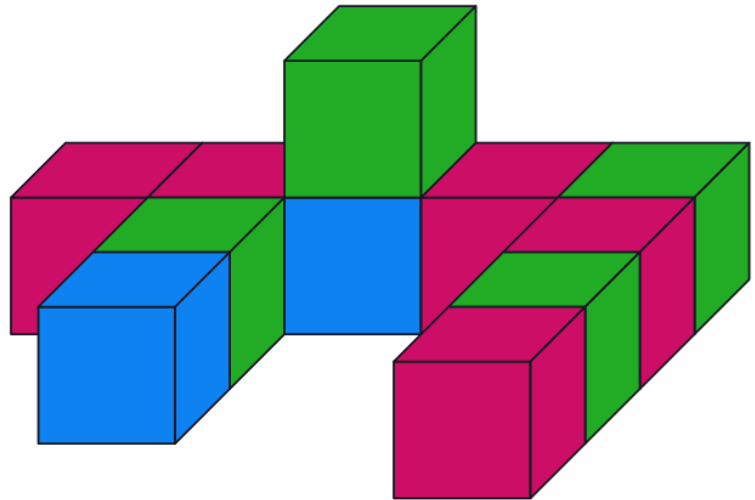
7. Pozri sa na obrázok a napíš, koľko kociek som použil na stavbu:

a) červených 5

b) modrých 2

c) zelených 4

d) všetkých spolu $5 + 2 + 4 = 11$



8. Aké **čísla** sú na modrých bodoch? Dopíš ich!



9. Koľko je hodín?



12:00



5:00



9:00

pre koumákov 😊

24:00

17:00

21:00