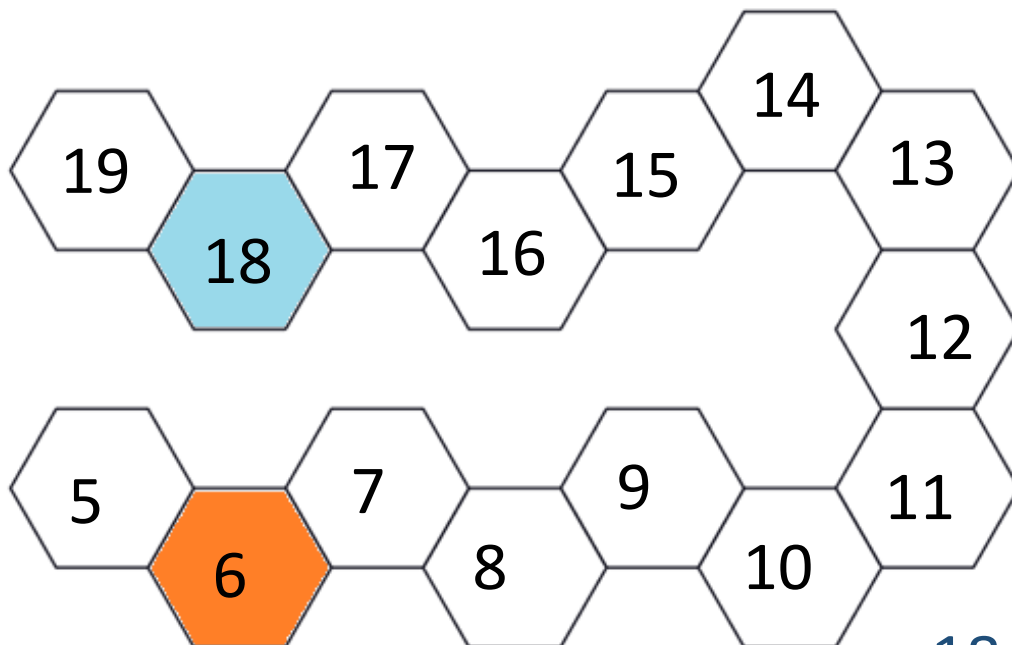


Vstupná písomná práca – 2. ročník - B

1. Dopíš **všetky** chýbajú čísla. Potom od čísla v modrom políčku odpočítaj číslo v oranžovom



$$18 - 6 = 12$$

2. Zväčši dané čísla o 7

2	13	3	11	12	1	0	10
9	20	10	18	19	8	7	17

3. Zmenši dané čísla o 3

19	18	8	9	13	20	10	6
16	15	5	6	10	17	7	3

4. Andrej zbiera postavičky jazdcov na koňoch. V zbierke ich má 10. Igor má vo svojej zbierke o 7 postavičiek menej ako Andrej. Koľko postavičiek majú spolu?

Andrej10

Igor $10 - 7 = 3$


Andrej + Igor = $10 + 3 = 13$

Spolu majú 13 postavičiek.



5. Anička chce byť kozmonautka a tak si nakreslila raketu. Vyfarbi **červenou** farbou trojuholníky, **modrou** obdĺžniky, **zelenou** kruhy a **žltou** štvorce. Do tabuľky zapíš ich počet a potom ich všetky spočítaj

	Počet
Trojuholník	4
Štvorec	2
Kruh	4
obdĺžnik	3



Všetkých spolu je **13**

6. Vypočítaj :

$$17 - 6 = 11$$

$$1 + 19 = 20$$

$$4 + 12 = 16$$

$$18 - 3 = 15$$

$$14 - 3 = 11$$

$$8 - 5 = 3$$

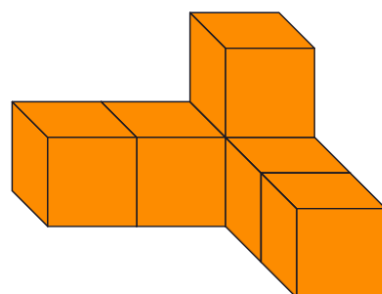
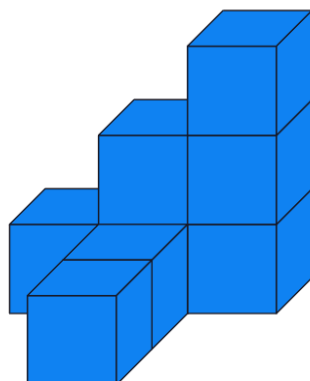
$$5 + 5 = 10$$

$$16 - 5 = 11$$

$$10 + 3 = 13$$

7. Od počtu modrých kociek odpočítaj počet oranžových kociek

modrých je 8
oranžových je 6
 $8 - 6 = 2$



8. Aké **čísla** sú na oranžových bodoch? Dopíš ich!

a)

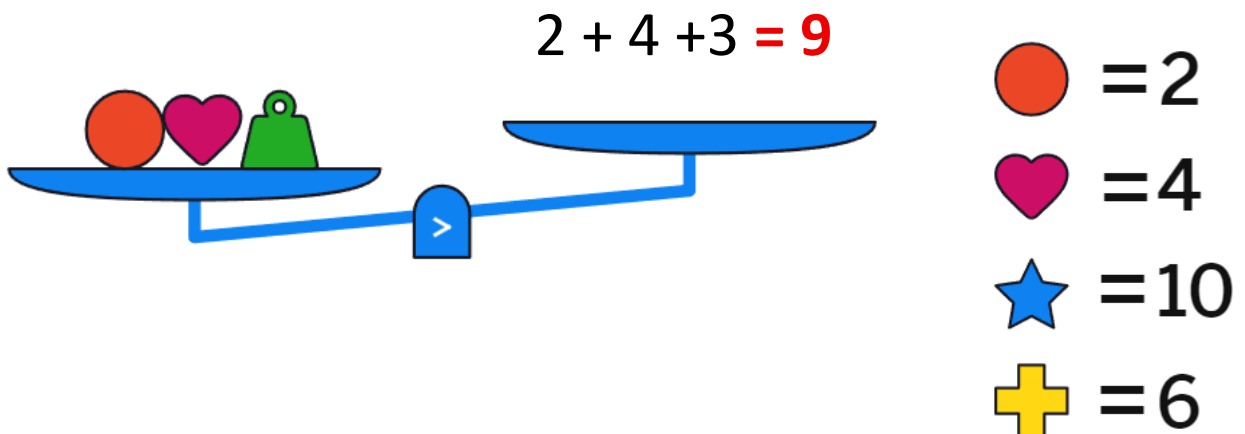


b)



9. Pozri sa na obrázok a vypočítaj, aké číslo musím dať na prázdnu misku, aby boli ramená v rovnováhe?

a)



b)

