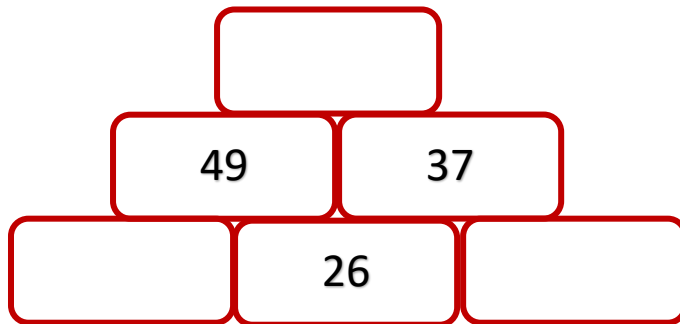
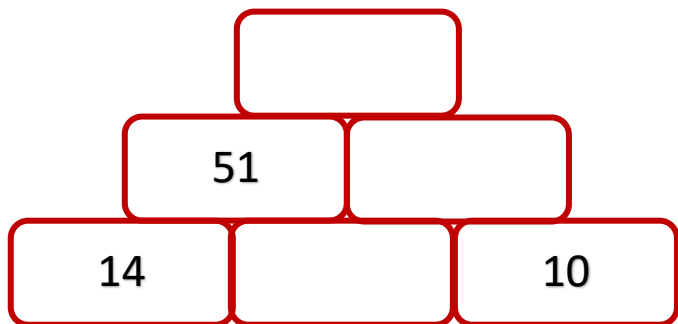


1. Štvrtročná písomná práca – 3. ročník

1. Doplniť všetky čísla do súčtových pyramíd



2. Vypočítaj a porovnaj znakmi $<$, $>$, $=$

$23 + 41$		$98 - 27$
-----------	--	-----------

$44 + 33$		$89 - 15$
-----------	--	-----------

$56 - 20$		$19 + 12$
-----------	--	-----------

$14 + 26$		$67 - 24$
-----------	--	-----------

3. Doplniť všetky čísla na číselnej osi a potom **červené** číslo vydeľ 4 a **zelené** vydeľ 5



 : 4 =

 : 5 =

4. Vypočítaj príklady





$4 \cdot 3 =$ $2 \cdot 4 =$ $5 \cdot 3 =$

$6 \cdot 4 =$ $7 \cdot 3 =$ $9 \cdot 2 =$

$12 : 2 =$ $16 : 4 =$ $10 : 2 =$

$27 : 3 =$ $18 : 3 =$ $20 : 4 =$

5. Na pretekoch v lietaní rozprávkových zvieratiek boli žirafa Esmeralda, mačička Micka, psík Leo a nosorožec Karči. Pozri si tabuľku .Potom vypočítaj koľko každé zvieratko preletelo . Výsledok zapíš do voľného okienka (oranžového)

	Čo sa stalo na pretekoch	výsledok
	Chcela preletieť 47 metrov ale nakoniec preletela o 12 metrov menej	
	Chcela preletieť 56 metrov ale preletela o 12 metrov viac	
	Chcel preletieť 96 metrov a to aj dokázal	
	Chcel preletieť 9 metrov ale preletel 3krát viac	

6. Táto úloha bude riadne strelená 😊 Bez použitia pravítka skús nakresliť voľnou rukou tri úsečky (Chcem vedieť, aký máš odhad pre dĺžku 😊)

$$|AB| = 8 \text{ centimetrov}$$

$$|CD| = 4 \text{ centimetre}$$

$$|EF| = 100 \text{ milimetrov}$$

7. Malý Peťko má super kamoša – mladého draka Rosária. Rosário má veľmi rád jahody a tak mu Peťko celý týždeň každý deň prinesie tri jahody. Koľko jahôd zje drak za týždeň? Koľko by ich zjedol, ak by mu Peťko nosil denne štyri jahody?



8. Aj tento príklad je taký divný, že? Dokážeš ho vypočítať?

$$\text{green cube} + \text{green cube} = 4$$

$$\text{pink cube} - \text{green cube} = 1$$

$$\text{pink cube} \cdot \text{pink cube} = ?$$

2024/2025

Webstránka - <https://ucimsadoma.weblahko.sk/matematika-pisomne-prace/>

FB skupina Učím sa doma - <https://www.facebook.com/groups/796102155249343>

Mgr. J. Zvolenský