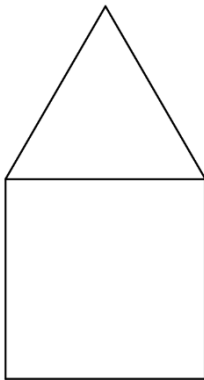



## Obvod obrazca – 5. ročník (1. časť)


1. Vypočítaj obvod obrazca, ktorý je tvorený štvorcom a trojuholníkom, ktorý má všetky tri strany rovnako veľké. Obvod štvorca je 20 centimetrov



2. Vypočítaj obvod obrazca, ktorý je tvorený dvoma rovnakými štvorcami a trojuholníkom, ktorý má všetky tri strany rovnako veľké. Obvod štvorca je 16 cm.



3. Vypočítaj obvod obrazca, ktorý je tvorený tromi rovnakými štvorcami a dvoma trojuholníkmi, ktoré majú všetky tri strany rovnako veľké. Obvod štvorca je 12 centimetrov



4. Vypočítaj obvod obrazca, ktorý je tvorený tromi rovnakými štvorcami a tromi trojuholníkmi, ktoré majú všetky tri strany rovnako veľké. Obvod štvorca je 32 centimetrov

