

## Písomná práca – rímske čísla

1. Zapiš arabskými číslami :

XII ≈

CLXI ≈

XIX ≈


MMI ≈

MDCL ≈

VIII ≈


LIV ≈

CCXIII ≈




2. Ktoré poradie slávnych rímskych légii je zoradené zostupne (podľa rímskych čísel)

- a) PRIMIGENIA, ULPIA VICTRIX, ITALICA, AUGUSTA
- b) ULPIA VICTRIX, PRIMIGENIA, AUGUSTA, ITALICA
- c) ITALICA, AUGUSTA, ULPIA VICTRIX, PRIMIGENIA
- d) AUGUSTA, ULPIA VICTRIX, ITALICA, PRIMIGENIA



3. Koloseum v Ríme bolo dokončené okolo roku 80 n.l. za cisára Tita, ktorý ho slávnostne otvoril. Zapiš rímskymi číslami rok otvorenia :

4. Na obrázku je slávny Circus Maximus, ktorý bol postavený v 6. storočí pred Kristom. Používaný bol aj na zápasy gladiátorov ale hlavne na preteky konských záprahov. Posledné preteky usporiadal kráľ Ostorgótov Totila v roku 549 n.l. Zapiš tento rok rímskymi číslami.



5. zapíš rímskymi číslami číslo o jedno väčšie a o jedno menšie

	XV	
--	----	--

	XX	
--	----	--

	VIII	
--	------	--

	III	
--	-----	--

	XI	
--	----	--

6. Vypočítaj príklady a výsledok zapíš rímskymi číslami

$$XII : VI \approx$$

$$X \cdot X \approx$$

$$III \cdot VII \approx$$

$$LIV : IX \approx$$

$$I + II + III + IV \approx$$

$$D + D \approx$$

7. Prelož jednu paličku tak, aby bol výsledok správny

$$II \sim II \approx IV$$

$$IX + VII \approx I$$

8. Pokračuj v číselnom rade rímskymi číslami

VI, VIII, X, XII, \_\_\_\_\_, \_\_\_\_\_, \_\_\_\_\_

III, VI, IX, XII, XV, XVIII, \_\_\_\_\_, \_\_\_\_\_, \_\_\_\_\_



9. Slávny taliansky maliar, sochár a vynálezca Leonardo da Vinci

zomrel v roku \_\_\_\_\_ (zapíš arabskými číslicami)

MDXIX

## Písomná práca – rímske čísla

1. Zapiš arabskými číslami :

XII ≈ 12

CLXI ≈ 161

XIX ≈ 19


MMI ≈ 2001

MDCL ≈ 1650

VIII ≈ 8


LIV ≈ 54

CCXIII ≈ 213




2. Ktoré poradie slávnych rímskych légii je zoradené zostupne (podľa rímskych čísel)

- a) PRIMIGENIA, ULPIA VICTRIX, ITALICA, AUGUSTA
- b) ULPIA VICTRIX, PRIMIGENIA, AUGUSTA, ITALICA
- c) ITALICA, AUGUSTA, ULPIA VICTRIX, PRIMIGENIA
- d) AUGUSTA, ULPIA VICTRIX, ITALICA, PRIMIGENIA



3. Koloseum v Ríme bolo dokončené okolo roku 80 n.l. za cisára Tita, ktorý ho slávnostne otvoril. Zapiš rímskymi číslami rok otvorenia : **LXXX**

4. Na obrázku je slávny Circus Maximus, ktorý bol postavený v 6. storočí pred Kristom. Používaný bol aj na zápasy gladiátorov ale hlavne na preteky konských záprahov. Posledné preteky usporiadal kráľ Ostorgótov Totila v roku 549 n.l. Zapiš tento rok rímskymi číslami. **DXLIX**



5. zapíš rímskymi číslami číslo o jedno väčšie a o jedno menšie

XIV	XV	XVI
XIX	XX	XXI
VII	VIII	IX
II	III	IV
X	XI	XII

6. Vypočítaj príklady a výsledok zapíš rímskymi číslami

$$XII : VI \approx II$$

$$X \cdot X \approx C$$

$$III \cdot VII \approx XXI$$

$$LIV : IX \approx VI$$

$$I + II + III + IV \approx X$$

$$D + D \approx M$$

7. Prelož jednu paličku tak, aby bol výsledok správny

$$II \sim II \approx IV \quad \text{napríklad} \quad III + I \approx IV$$

$$IX + VII \approx I \quad \text{napríklad} \quad IX \sim VIII \approx I$$

8. Pokračuj v číselnom rade rímskymi číslami

VI, VIII, X, XII    XIV, XVI, XVIII

III, VI, IX, XII, XV, XVIII, XXI, XXIV, XXVII



9. Slávny taliansky maliar, sochár a vynálezca Leonardo da Vinci

zomrel v roku 1519 (zapíš arabskými číslicami)

MDXIX