

KONTROLNÁ PRÁCA

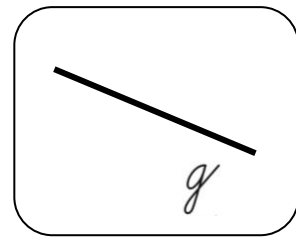
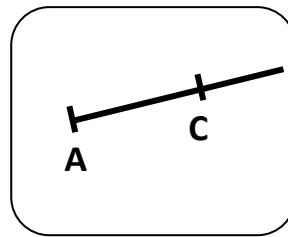
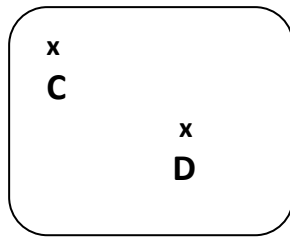
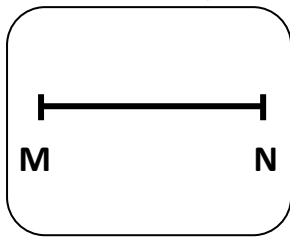
Geometria


2. ročník

bod, úsečka, priamka, polpriamka, útvary

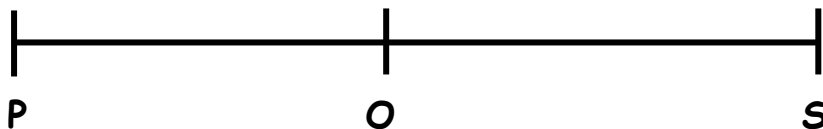
Meno: _____

1. Napíš, čo je na obrázku.



2. Narysuj úsečku KL. Vyznač bod M, ktorý leží na úsečke KL a bod P, ktorý na nej neleží. 

3. Koľko úsečiek je na obrázku? Napíš, ktoré to sú.


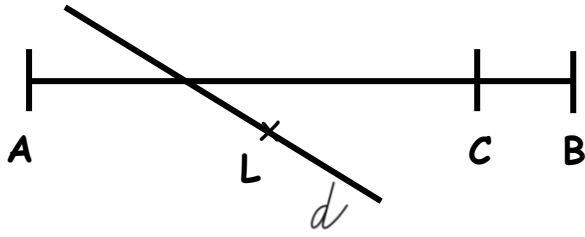


Na obrázku sú _____ úsečky. Sú to: _____

4. Narysuj priamku s. Potom narysuj priamku h tak, aby pretínala priamku s. Priesečník priamok pomenuj R.

5. Vyznač bod K. Narysuj 3 priamky c, d, e, ktoré prechádzajú bodom K. 

6. Peter narysoval tento obrázok. Podľa ktorého zadania pracoval? Podľa zadania A alebo B? Zakrúžkuj správne písmeno.



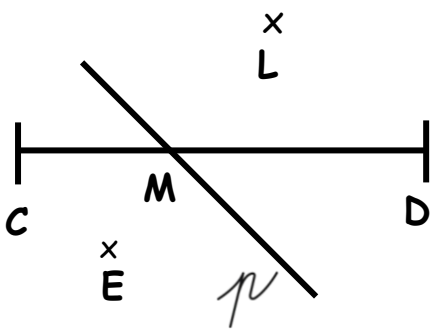
A

Narysuj úsečku AB. Vyznač bod L, ktorý neleží na úsečke AB. Vyznač bod C, ktorý leží na úsečke AB. Narysuj priamku d, tak aby prechádzala bodom L a pretínala úsečku AB.

B

Narysuj úsečku AB. Vyznač bod C, ktorý neleží na úsečke AB. Vyznač bod L, ktorý leží na úsečke AB. Narysuj priamku d, tak aby prechádzala bodom C a pretínala úsečku AB.

7. Rozhodni o pravdivosti viet. Je pravda, že







1. na obrázku je jedna úsečka
2. na obrázku je jedna priamka
3. bod L leží na priamke p
4. bod M je priesečníkom priamky p a úsečky CD
5. bod E nepatrí úsečke CD

A	N
A	N
A	N
A	N
A	N



8. Pomenuj geometrické útvary





Počet bodov:

Známka:

Percentuálna úspešnosť: