

## 5. ročník - Výstupná písomná práca

1. Ktoré číslo treba doplniť miesto 😊 tak, aby bol výpočet správny ?


$$6\ 240 - \text{😊} = 3\ 758$$

2. Koľkokrát je číslo 2 700 väčšie ako číslo 9 ?



3. Patrik, Ivan a Lacko zbierali kartičky **Magic - The Gathering**. Patrik mal 237 kartičiek, Lacko o 75 viac ako Patrik a Ivan mal o 147 menej ako Patrik a Lacko spolu. Koľko mali kartičiek všetci kamaráti spolu ?

4. Koľko je obrázku štvoruholníkov ?



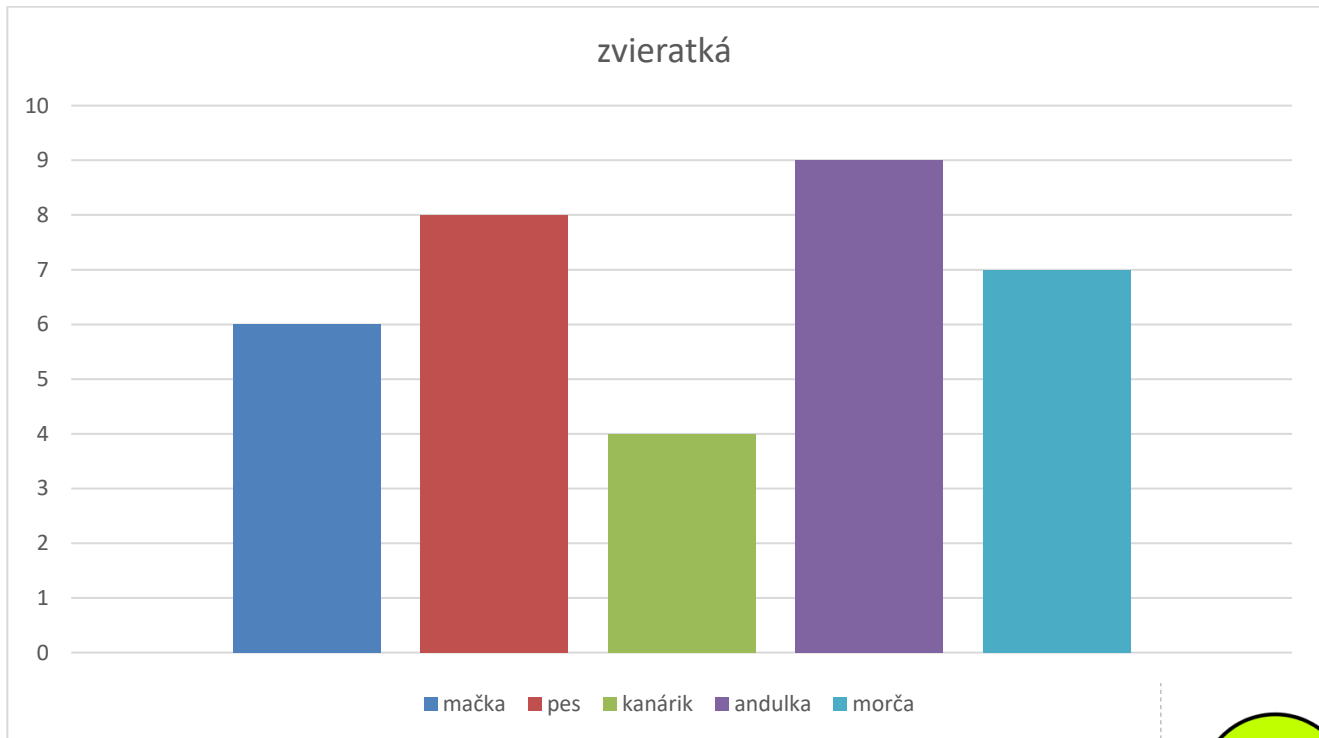
5. Nájdi nesprávny výsledok a oprav ho :

$$120 - 40 : 10 = 8$$

$$240 + 6 \cdot 10 = 300$$


$$(100 - 90) : 2 = 5$$

6. V škole sa deti rozprávali o domácich zvieratkách. Zistili, že spolu chovajú 34 zvieratiek. Diagram znázorňuje počet jednotlivých zvieratiek, ktoré deti doma mali. Napíš, koľko detí má štvornohé zvieratko


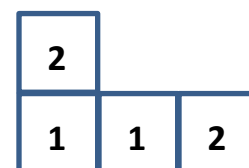
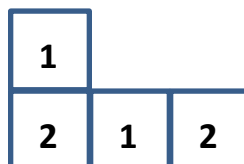
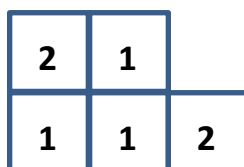
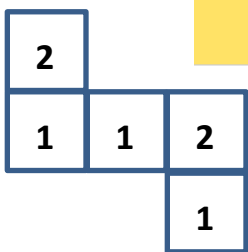


7. Vypočítaj výšku obrázku ak vieš, že zelený kruh má polomer 3 cm, obdĺžnik má rozmery 8 cm a 4 cm.

8. Na obrázku je plán stavby z kociek. Ktorý z plánov patrí danej stavbe ?



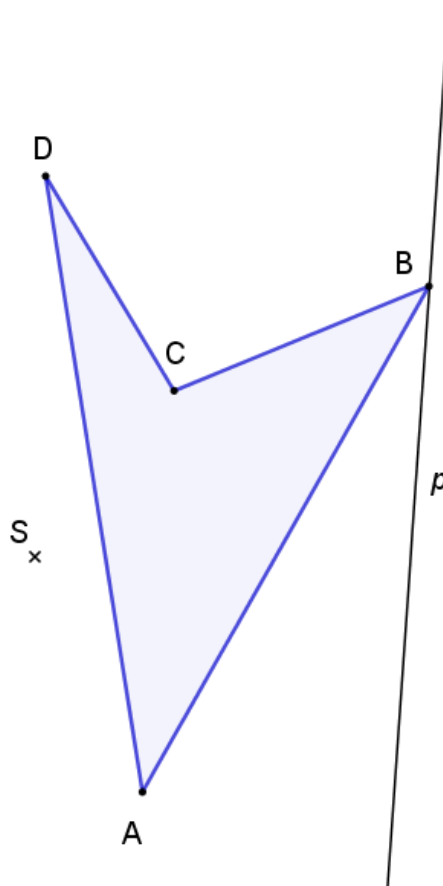
© 2017 Edita Partová & Katarína Žilková



9. Slimák Filip si naplánoval, že začne cvičiť na letnú formu a do večera prejde 1 meter. Ráno prešiel 3 dm, na obed 49 cm a poobede 200 mm .Koľko cm mu chýbalo do splnenia cieľa ?



10. Na obrázku je štvoruholník ABCD, zostroj jeho obraz v **osovej súmernosti** podľa priamky  $p$  a v **stredovej súmernosti** cez bod  $S$ .



9. Vypočítaj a urob skúšku správnosti :

$$2\,578 : 19 =$$