

Meno a priezvisko :

počet percent :

1. Nemenovaný obchod ponúkal v povianočnom výpredaji zberateľské figúrky. Jurko si ponuku vytlačil a na prvom obrázku prekryl zľavu a na druhom výpredajovú cenu. Vypočítaj, čo Jurko prekryl (**výsledok zaokrúhli na celé čísla**)

Povianočný výpredaj



Harry Potter POP! Vinyl Figure Holiday Harry Potter 9 cm

Merchandise - Figúrka Funko POP! #122 Harry Potter: Holiday Harry Potter, oficiálne licencovaný produkt, výrobca: Funko, materiál: vinyl,... [viac](#)

8,99 €

Na sklade > 5 ks

Expedujeme 15.1. (pondelok)

? %

~~16,99 €~~

Povianočný výpredaj



Funko POP! #124 Harry Potter: Holiday - Ron Weasley

Merchandise - Figúrka Funko POP! #124 Harry Potter: Holiday - Ron Weasley, oficiálne licencovaný produkt, výrobca: Funko, materiál: vinyl,... [viac](#)

? €

Na sklade > 5 ks

Expedujeme Zajtra

Zlava 35 % ~~16,99 €~~



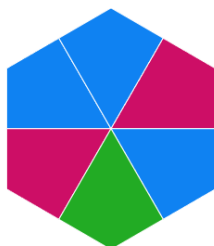

2. Harry Potter spolu s Ginny Weasleyová vložili do Gringott banky 5 000 zlatých mincí . Aký úrok banka ponúkla, ak im po 5 rokoch banka pripísala 1500 zlatých mincí ?



3. Pod každý obrázok napíš :

a) Aký zlomkom v základnom tvare je modrá časť z každého útvaru

b) Koľko % tvoria modré dieliky v každom útvaru



4. Výsledok zapíš v tvare desatinného čísla

$$\left(3\frac{1}{5} - 1,4\right) \cdot \frac{1}{6} =$$

5. Výsledok zapíš v tvare zlomku v základnom tvare alebo ako zmiešané číslo


$$150\frac{1}{3} + 149\frac{2}{3} =$$

$$5\frac{1}{2} - 2\frac{1}{3} - 1\frac{3}{4} =$$


$$\frac{63}{45} \cdot \frac{15}{72} =$$

$$\frac{1000}{54} : \frac{900}{48} =$$

6. Koľko kruhov musím prefarbiť na oranžovo , aby :




obr.1 - Bola polovica kruhov oranžová



obr. 2 - bolo 20 % oranžovej farby

7. Pri príležitosti 20. výročia prvej knihy Harry Potter ponúkalo internetové kníhkupectvo všetkých sedem dielov v špeciálnom vyhotovení a krásnom obale za cenu 90 €. Vo vianočnej ponuke sa box s knihami predával s 10 % zľavou. V letnom výpredaji znížili cenu z vianočnej ponuky o 20 % .



- Koľko stála knižná sága po vianočnej zľave ?
- Koľko stála v letnom výpredaji ?