

Vstupná písomná práca – 6. ročník

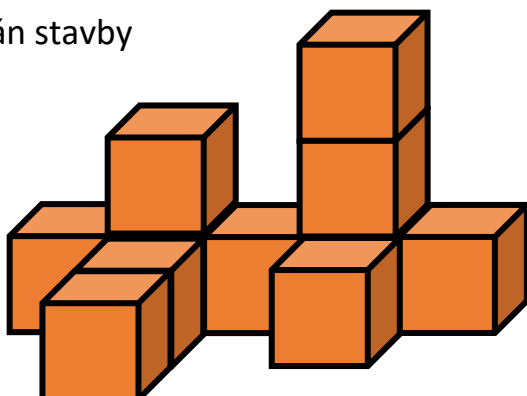
Meno a priezvisko :

počet bodov :

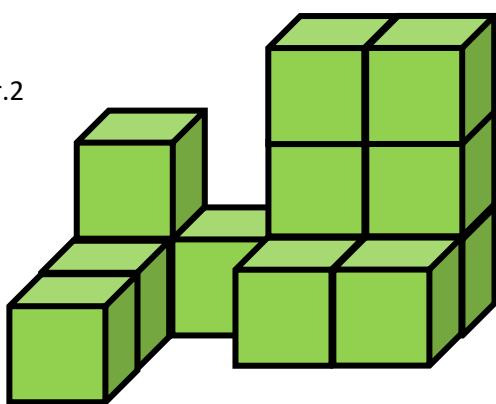
% :

1. Nakresli plán stavby

obr.1



obr.2



2. Pán Chrústik zdedil veľkú záhradu s obvodom **510** metrov. Na nešťastie na plániku záhrady bola na jednom z rozmerov škvrna. Aké bolo pod ňou číslo ?



110



3. Pani učiteľka išla s deťmi na exkurziu do Viedne. Samozrejme navštívili aj Dom motýľov. Mala so sebou **12** detí. Lístok pre dospelého stojí **6 €** a lístok pre jedno dieťa **4 €**. Koľko € dostala v pokladni naspäť ak platila 100 € bankovkou ?

4. Oprav nesprávne výsledky

$$36 : 4 - 3 \cdot 3 = 1$$

$$45 : (21 - 3 \cdot 4) = 5$$

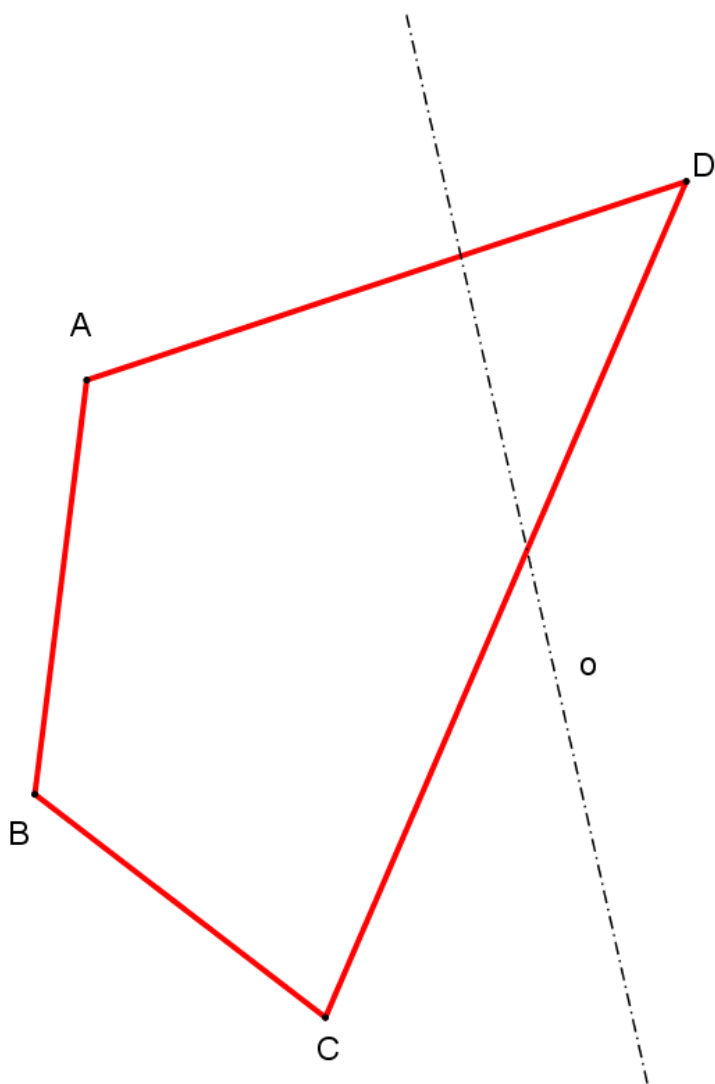
$$21 + 4 \cdot 2 = 50$$

5. Veveričky z doby ľadovej spolu nazbierali 47 892 orieškov. Veveričiek bolo spolu **9**. Koľko orieškov pripadne na jednu veveričku ?:)



6. Nakresli voľnou rukou dva erby v osovej súmernosti. Jeden nech ma os zvislú a jeden vodorovnú.

7. Zostroj obraz štvoruholníka ABCD v osovej súmernosti podľa osi o



8. Zostroj obraz štvoruholníka ABCD v stredovej súmernosti podľa bodu S

