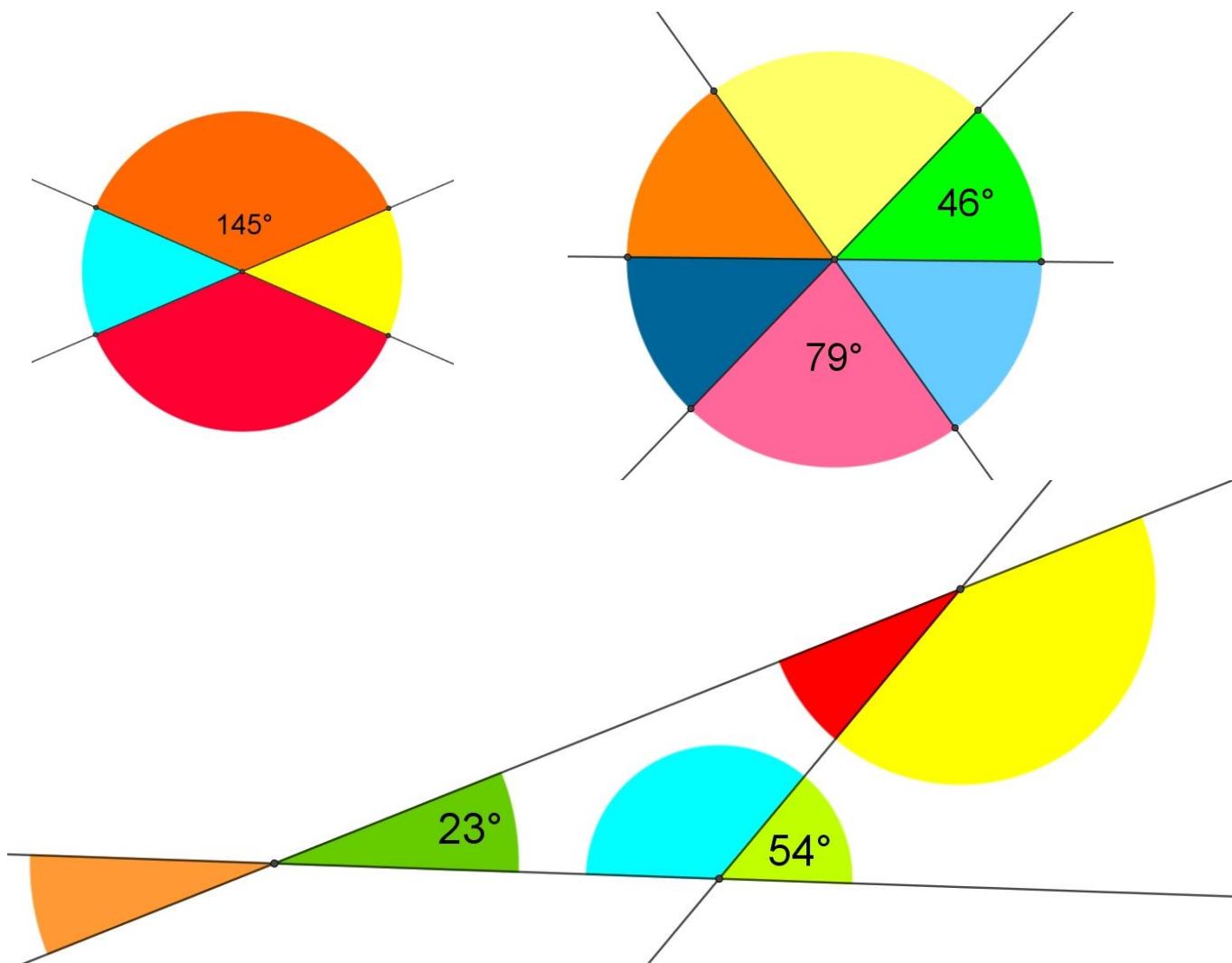
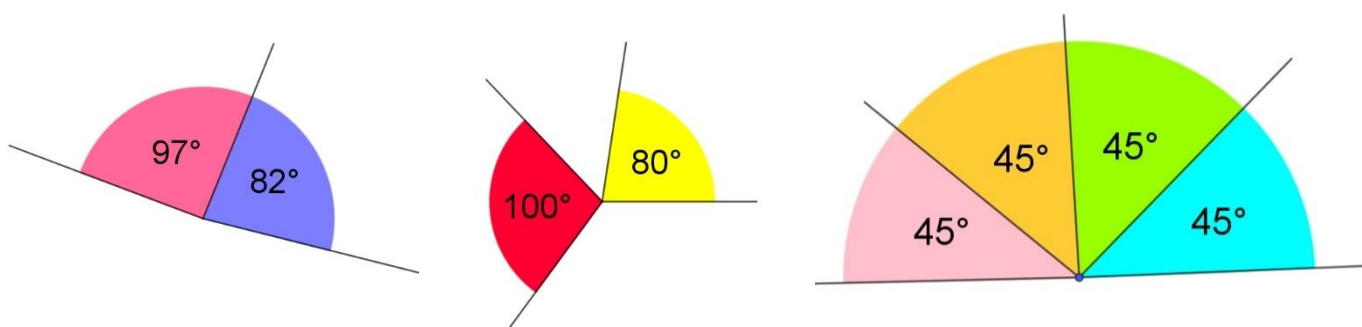


Polročná písomná práca – 6. ročník (verzia 2)

1. Vypočítaj veľkosť všetkých farebných uhlov na obrázkoch



2. Na ktorom obrázku sú zakreslené susedné uhly



Napíš odpoveď ☺

3. Vypočítaj a potom zakresli voľnou rukou veľkosť vypočítaného uhla 😊

$$68^{\circ}26' + 32^{\circ}48' =$$

$$100^{\circ} - 75^{\circ}25' =$$

$$171^{\circ}5' - 29^{\circ}9' =$$

4. Zaokrúhli podľa zadania v tabuľke

	Desatiny	Stotiny	Tisíciny
10,5494			
0,072998			

5. Vypočítaj rozdiel čísel :
deväť celých osem stotín a dvestotridsaťsedem tisícín

6. Ktoré číslo je deliteľné súčasne 2,3,4 a 6 ?

- a) 400 216 b) 80 000 c) 702 024 d) 111 112

7. Ktoré číslo (čísla) je prvočíslo ?

- a) 35 b) 34 c) 39 d) 32 e) 37

8. Dopln číslu tak, aby bolo veľké číslo deliteľné 9

3 111 248 784 0_1

9. Poznáte to 😊 Požičiate niekomu knihy a už sa nevrátia. Na Martinuse som si našiel chýbajúce knihy. Kúpim si tieto tituly :
- Deti Duny – knižnú verziu
 - Spasiteľ Duny – E knihu
 - Duna: Grafický román 3x – aj pre mojich synov
- Koľko zaplatím spolu za objednávku ?



Deti Duny

Frank Herbert 3. diel série

Pieskom zaviaty Arrakis sa zazelenie, ožije a je čoraz úrodnejší. Paul Atreides, spasiteľ Duny, ktorý sa svojho času postavil do čela fremenov, mizne v púšti. Arrakis vládne jeho sestra Alia, ale jej vláda nie je absolútna. Mu...

Kniha pevná väzba



19,95 €


Na sklade



E-kniha PDF EPUB MOBI

11,90 €

Ihneď na stiahnutie



Božský imperátor Duny

Frank Herbert 4. diel série

Prešli miléniá a Arrakis, planéta, ktorú kedysi pokrývali púšte, je opäť zelená. Leto Atreides síce žije, no prišiel o svoju ľudskú podstatu. Aby zachránil budúcnosť ľudstva, obetoval svoje človečenstvo a splynul s púštnym...

Kniha pevná väzba



19,41 €

-3 %

Na sklade



E-kniha PDF EPUB MOBI

11,90 €

Ihneď na stiahnutie



Spasiteľ Duny

Frank Herbert 2. diel série

Spasiteľ Duny je pokračovanie príbehu Paula Atreidesa, známeho a obávaného pod menom Muad'Dib, ktorý vo svojich rukách sústredil väčšiu moc, než je pre smrteľníka zdravé. Fanatické Fremeni ho uctievaajú ako božstvo...

Kniha pevná väzba



13,35 €

-11 %

Na sklade



E-kniha PDF EPUB MOBI

7,90 €

Ihneď na stiahnutie



Duna: Grafický román

Kniha 1

Frank Herbert 1. diel série

Grafický román Duna, adaptácia žánrovej klasiky science fiction od Franka Herberta, rozpráva príbeh Paula Atreida a jeho rodiny, ktorí na púštnej planéte Arrakis preberajú ťažbu mystickej drogy melanže, ktorá...

Kniha pevná väzba



14,94 €

-40 %

Na sklade



10. Ktoré z čísel má na mieste stotín najmenšiu číslicu ?

- 0,019999
- 14,9299
- 100,0811
- 1,907899

11. Kamaráti si chceli otvoriť štýlovú kaviareň zameranú na Pána prsteňov a rozhodli sa zakúpiť z internetového obchodu tri repliky mečov.



Aragornov meč "ANDURIL" plameň západu - Pán Prsteňov

Druh : replika meča

Hmotnosť : 1902 g

Dĺžka meča : 122 cm

Dĺžka čepele : 91 cm

Materiál : nerezová oceľ, drevo, koža



Meč Gandalfa Sivého / Bieleho "GLAMDRING - THE BEATER" ocel'ový

Druh : replika meča

Hmotnosť : 1263 g

Dĺžka meča : 92,6 cm

Dĺžka rukoväte : 12 cm

Materiál : nerezová oceľ, drevo, koža



Meč Nazgulov "SWORD OF RINGWRAITHS" ocel'ový

Druh : replika meča

Hmotnosť : 1262 g

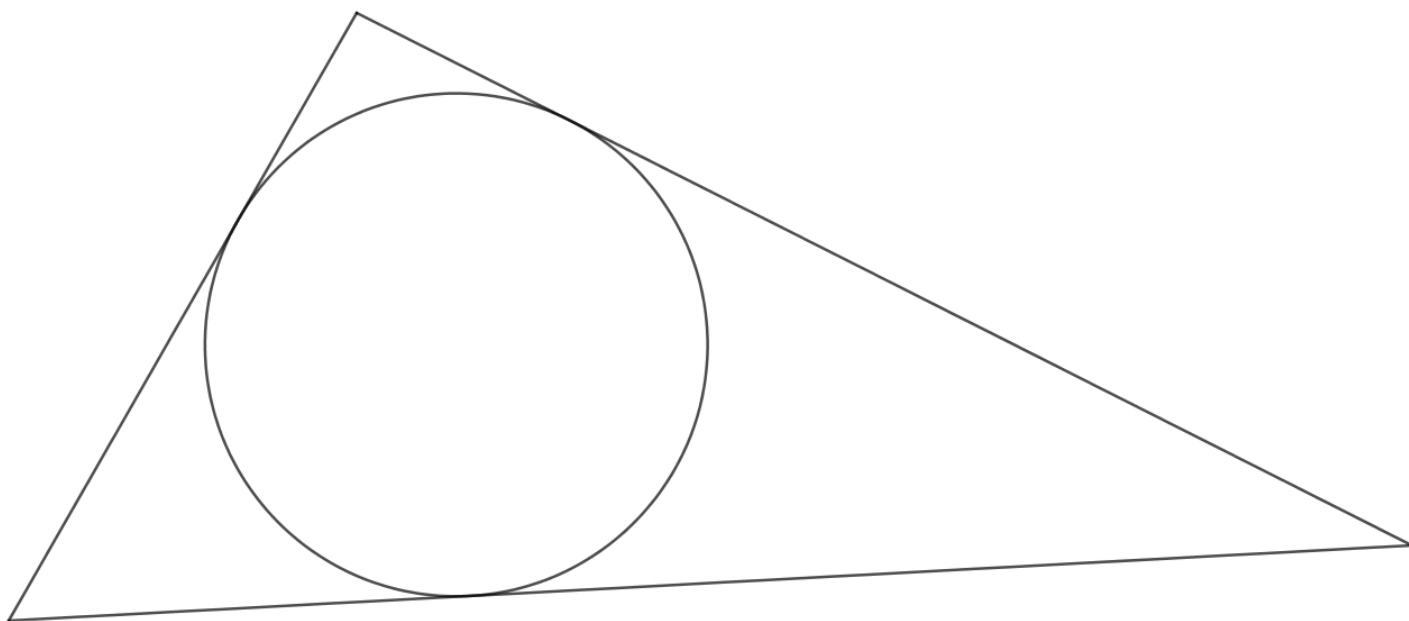
Dĺžka meča : 96,5 cm

Dĺžka rukoväte : 17,5 cm

Materiál : nerezová oceľ, drevo, koža

- 1) Akú celkovú hmotnosť v kilogramoch budú mať všetky tri repliky mečov ?
- 2) Aká bude celková dĺžka všetkých mečov ?
- 3) Ktorý meč je najväčší ?

12. Pomocou osí uhlov nájdi stred vpísanej kružnice 😊



13.BONUS

Narysuj uhly $\alpha = 65^\circ$ a $\beta = 110^\circ$

Potom zostroj grafický súčet týchto uhlov. Výsledný uhol zmeraj a over výpočtom