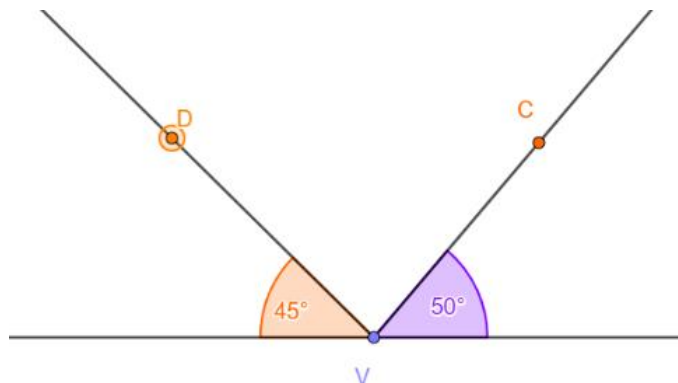


Polročná písomná práca – 6. ročník

1. Vypočítaj veľkosť daných uhlov na obrázkoch

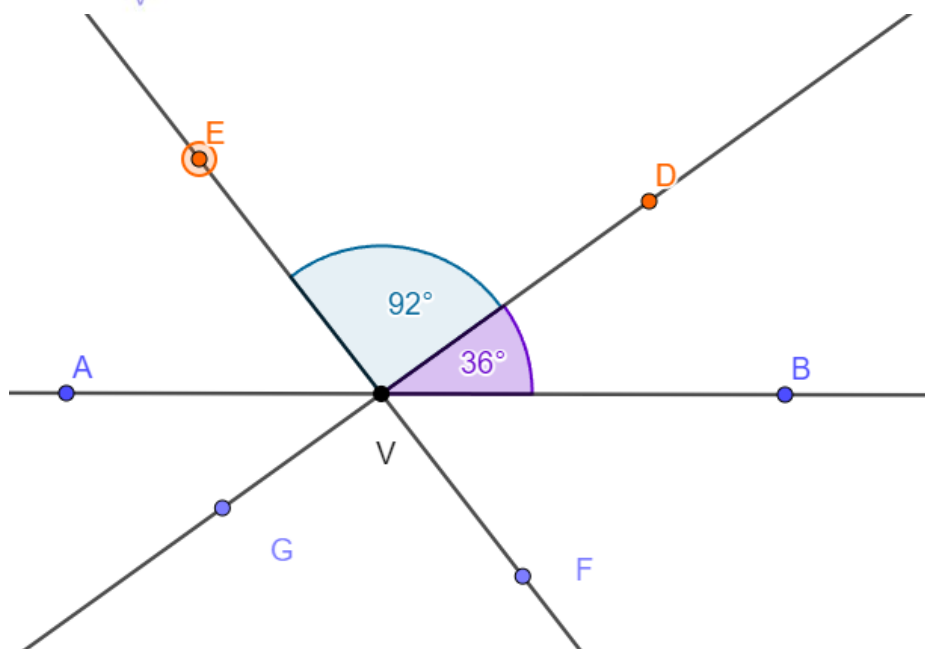
$$|\sphericalangle CVD| =$$



$$|\sphericalangle AVE| =$$

$$|\sphericalangle GVF| =$$

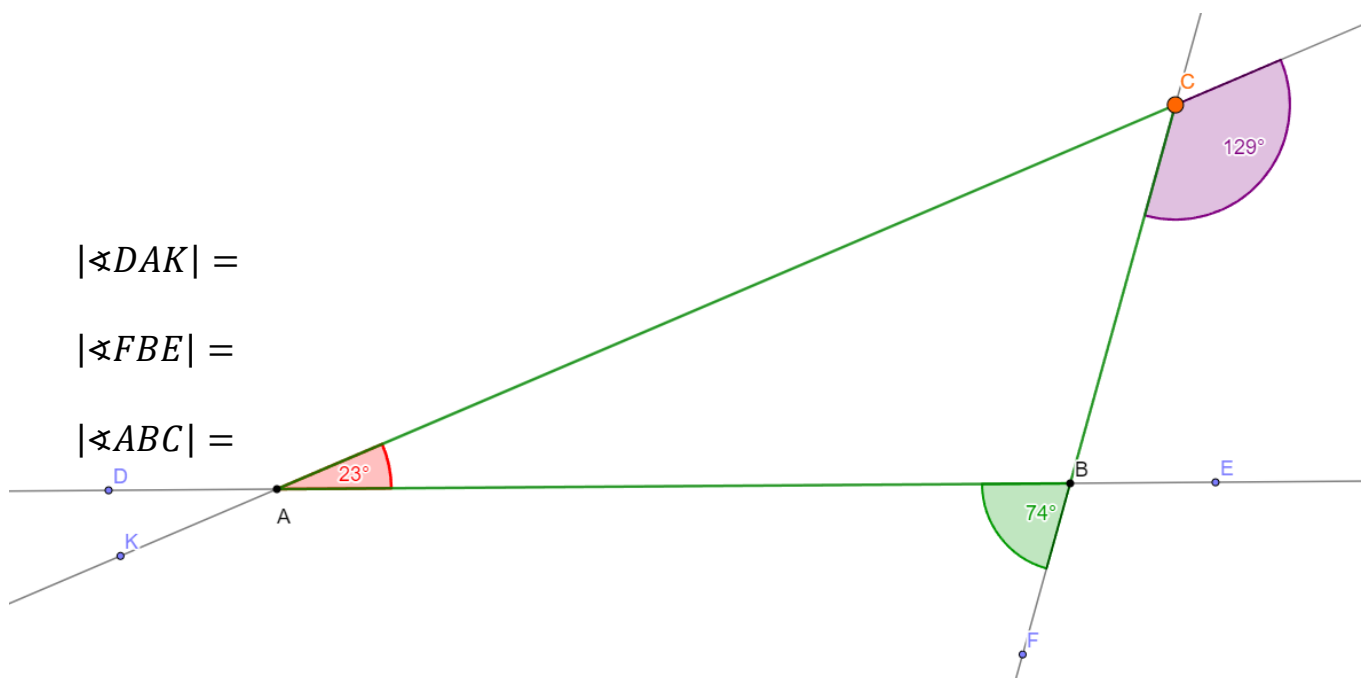
$$|\sphericalangle FVB| =$$



$$|\sphericalangle DAK| =$$

$$|\sphericalangle FBE| =$$

$$|\sphericalangle ABC| =$$



2. Vypočítaj a potom zakresli voľnou rukou veľkosť vypočítaného uhla 😊

$$15^{\circ}45' + 74^{\circ} 15' =$$

$$100^{\circ} - 90^{\circ} 35' =$$

$$178^{\circ} 5' - 29^{\circ} 9' =$$

3. Zaokrúhli podľa zadania v tabuľke

| | Desatiny | Stotiny | Tisíciny |
|----------|----------|---------|----------|
| 10,4617 | | | |
| 0,051898 | | | |

4. Vypočítaj rozdiel čísel :
šesť celých trinásť stotín a stoštyri tisícín

5. Ktoré číslo je deliteľné súčasne 2,3,4 a 6 ?

a) 600 236

b) 810 245

c) 702 020

d) 900 024

6. Ktoré číslo (**čísla**) je prvočíslo ?

a) 41

b) 29

c) 31

d) 57

e)39

7. Peťo si chcel kúpiť trilógiu od Leigh Bardugo. Pozeral si rôzne ponuky a porovnával ceny. Tu su hlavné otázky, ktoré riešiel :
- Oplatí sa kúpiť celú trilógiu naraz (**Griša 1-3**) alebo každú knižku samostatne ?
 - Koľko by ušetril, ak by si kúpil trilógiu ?
 - Koľko by zaplatil, ak by si všetky tri knihy kúpil ako **E - knihy** ?



Griša 1-3

kolekcia

Leigh Bardugo

SÉRIA VEK VYDAVATELSTVO POČET STRÁŇ
Griša (SK) 15+ Slovart 352 + 400 + 408

Vyberte sa do sveta Griš prostredníctvom tejto svetoznámej trilógie... [Čítať viac](#) ↓

Brožovaná väzba · Slovenčina

42,63 €

36,36 € -15 %

Na sklade > 5 ks
Posielame **ihneď**

VLOŽIŤ DO KOŠIKA

REZERVOVAŤ V KNÍHKUPECTVE



Tieň kostí

Leigh Bardugo 1. diel série

Kedysi veľkolepú Ravku preťala na dve časti Tieňová trhlina, pásmo takmer nepreniknuteľnej temnoty plné krvilačných príšer. Alina Starková, sirota, ktorá sa stala vojačkou v ravkanskej armáde, nikdy v nič...

Kniha brožovaná väzba

12,95 €


Na sklade > 5 ks



E-kniha PDF EPUB MOBI

8,99 €

Ihneď na stiahnutie



Povstanie ničoty

Leigh Bardugo 3. diel série

Magické finále série Griša! Hlavné mesto padlo. Temnan vládne Ravke z tieňového trónu. Osud celého národa spočíva na pleciach zdrzenej Svetlany a roztrúsených zvyškoch kedysi veľkolepej magickej...

Kniha brožovaná väzba

12,95 €

Na sklade > 5 ks



E-kniha PDF EPUB MOBI

8,99 €

Ihneď na stiahnutie



Zajatie búrky

Leigh Bardugo 2. diel série

Alina sa po úteku cez Právě more, prenasledovaná výčitkami kvôli životom, ktoré jej rukami vyhasli v Tieňovej trhlina, pokúša začať nový život v cudzej krajine a udržať svoju identitu Svetlany v tajnosti. Pr...

Kniha brožovaná väzba

12,95 €

Na sklade > 5 ks



E-kniha PDF EPUB MOBI

8,99 €

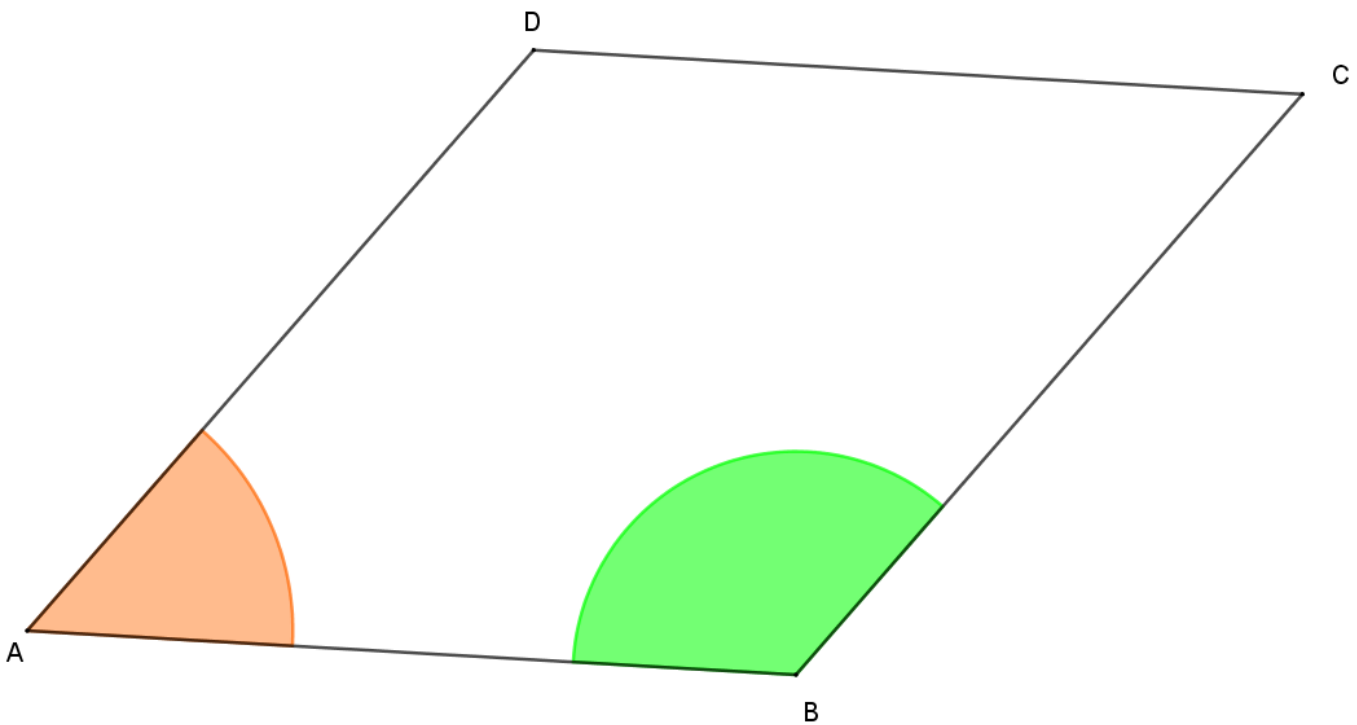
Ihneď na stiahnutie



8. Ktoré z čísel má na mieste **tisícin** najmenšiu číslicu ?

- a) 0,017999 b) 14,9034 c) 100,0811 d) 1,996899

9. Zostroj os oranžového a zeleného uhla. Priesečník oboch osí označ S. Zmeraj a zapíš $|\sphericalangle ASB| = ?$



10. **Bonus** - Narysuj uhly $\alpha = 60^\circ$ a $\beta = 45^\circ$. Potom zostroj grafický súčet týchto uhlov.

Výsledný uhol zmeraj a over výpočtom

(ak to zvládneš len pomocou pravítka a kružidla, si majster 😊)