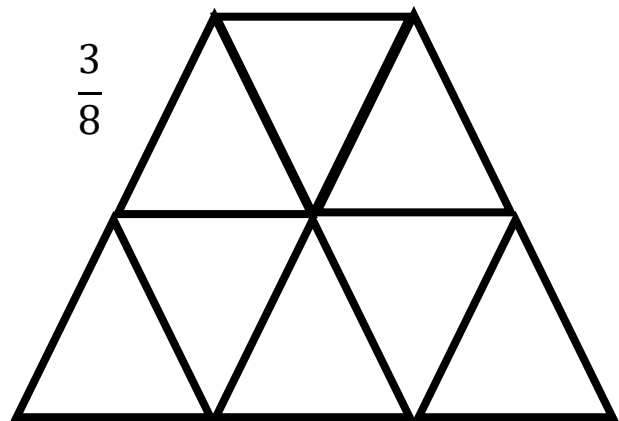
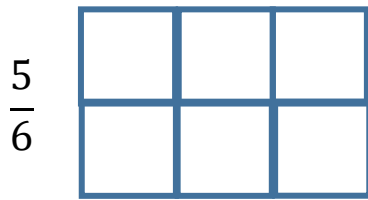


Zlomky – I. časť - test č.1

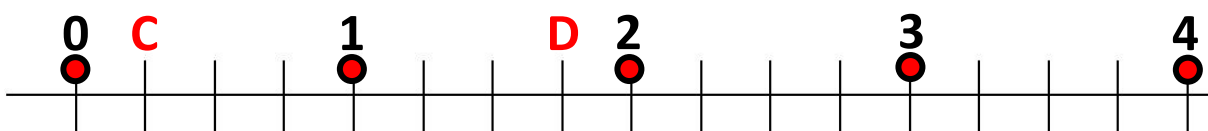
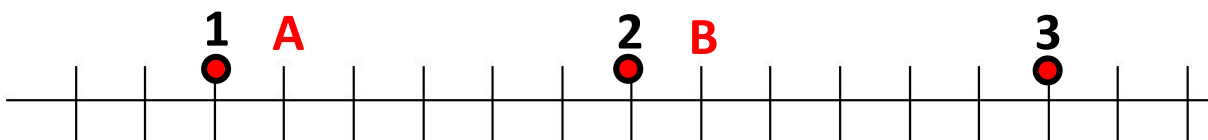
1. Vyfarbi

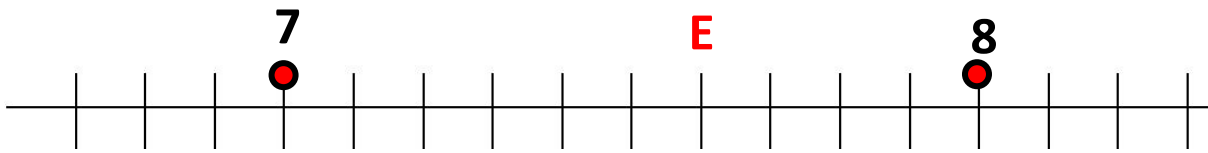


2. Nakresli kruh a vyfarbi v ňom jednu tretinu

3. Nakresli štvorec a vyfarbi tri polovice ☺

4. Aké zlomky sa ukrývajú pod písmenami ?





5. Zvoľ svoju číselnú os (môžeš aj voľnou rukou) a zakresli na nej $\frac{10}{3}$

6. Uprav zlomky na základný tvar :

$$\frac{12}{16} =$$

$$\frac{25}{40} =$$

$$\frac{63}{47} =$$

$$\frac{42}{36} =$$

$$\frac{55}{99} =$$

$$\frac{300}{700} =$$

7. Doplň správne číslo 😊

$$\frac{\quad}{21} = \frac{5}{7}$$

$$\frac{18}{\quad} = \frac{2}{5}$$

$$\frac{15}{45} = \frac{\quad}{9}$$

$$\frac{42}{24} = \frac{7}{\quad}$$