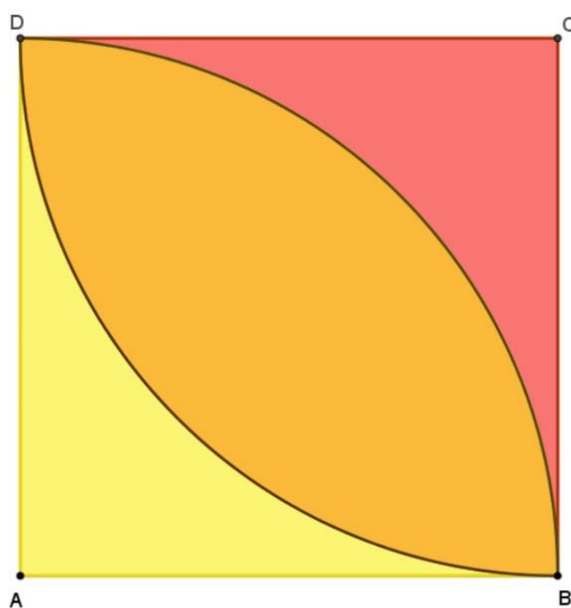


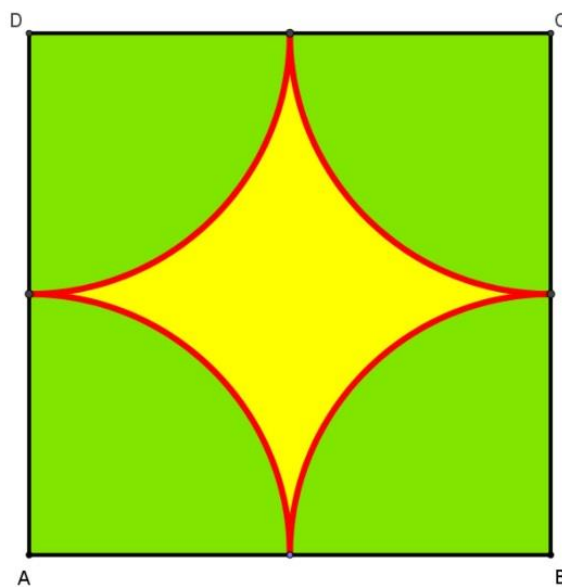
Obsah a obvod – kruh a kružnica

Zostava č.2

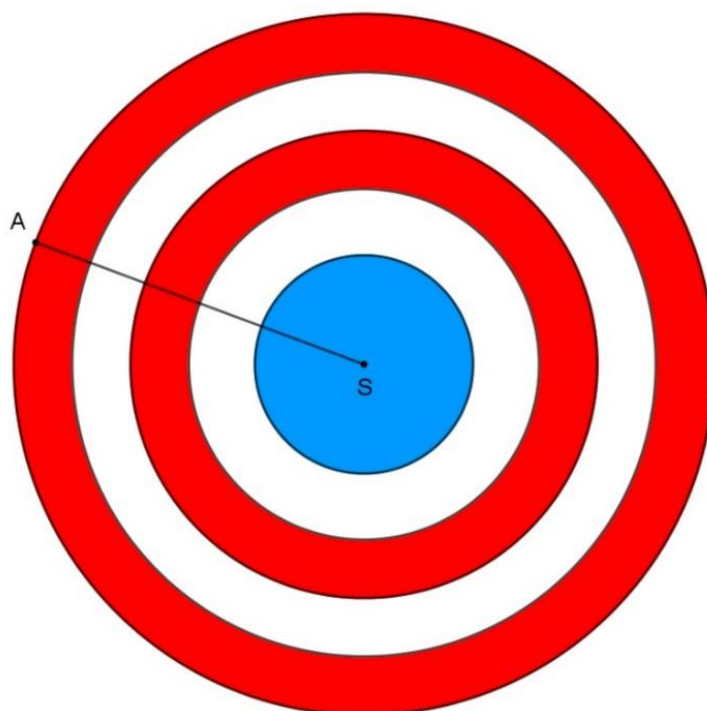
1. Vypočítaj obsah a obvod oranžovej polohy . Strana štvorca je 12 cm. (obr.1)
2. Vypočítaj obsah žltej plochy a dĺžku červenej čiary na obrázku č.2. Obvod štvorca je 40 cm.
3. Vypočítaj obsah červenej plochy. Vzďialenosť bodov $|AS| = 8 \text{ cm}$. Stredový modrý kruh má priemer 8 cm . Biele a červené medzikružia majú rovnakú šírku. (obr.3)



Obr.1



Obr.2



Obr.3