


## TEST A

1. Zapiš matematicky a vypočítaj koľko je:

a) podiel čísel 72 a 8 vynásobený 5 .....

b) rozdiel čísla 52 a súčinu čísel 5 a 9 .....


c) súčet čísla 72 a podielu čísel 36 a 6 .....

2. Pod rovnakými symbolmi sú ukryté rovnaké čísla. Zisti, ktoré číslo patrí na miesto .

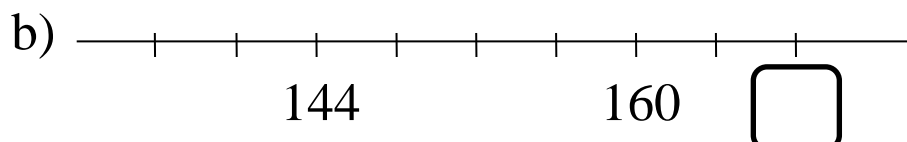
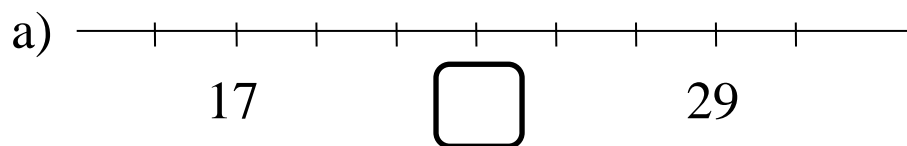
$$50 + (22 - 14) \cdot 9 = \text{star}$$

$$68 - (36 + 6 \cdot 4) = \text{heart}$$

$$\text{star} + \text{heart} = \text{cloud}$$

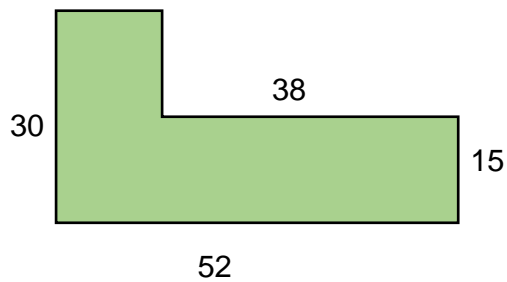
Pod symbolom  sa skrýva číslo .....

3. Doplň čísla, ktoré chýbajú v rámečku na číselnej osi:



4. Farmár si postavil plot okolo veľkej záhrady v tvare písmena L.

Aká je dĺžka celého plota nakresleného na obrázku, ktorého rozmery sú v metroch.



Dĺžka celého plota je ..... metrov.

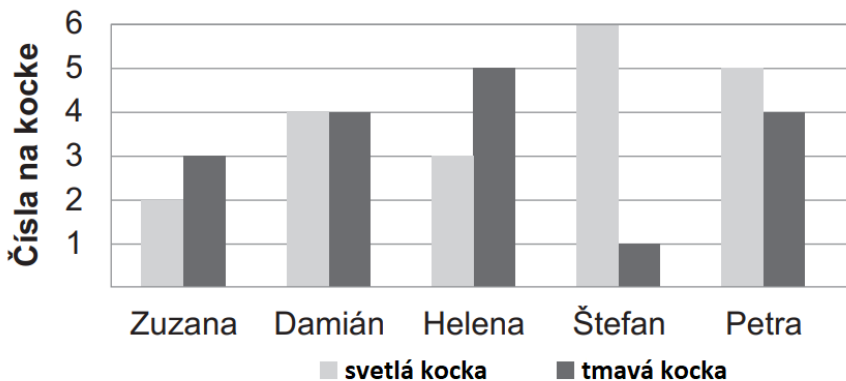
5. Vypíš všetky trojciferné čísla, ktoré môžeme poskladať z kartičiek s číslicami 0, 1, 4 a 7.



Z kartičiek môžeme poskladať tieto čísla .....

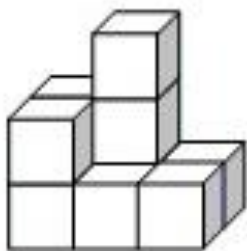
6. Päť kamarátov hádzalo dvomi rôznymi kockami (svetlou a tmavou), na ktorých boli čísla od 1 do 6. Každý hodil kockami len raz a hodené čísla (zo svetlej aj tmavej kocky) sú znázornené v stĺpcovom diagrame.

Urči, kto z kamarátov hodil najviac (najväčší súčet).



Najviac hodil/a .....

7. Zapiš z koľkých kociek sa skladá stavba na obrázku.



Stavba sa skladá z ..... kociek.

8. Marcel si na futbalový zápas potrebuje kúpiť **kopačky a trenírky**. V športových obchodoch v Europa Shopping Center si môže vybrať z viacerých ponúk.

Ktorá ponuka je pre Marcela cenovo najvýhodnejšia?

<i>Ponuka</i>	<i>Kopačky</i>	<i>Trenírky</i>	<i>Aktuálna AKCIA</i>
1.	52 €	15 €	Pri kúpe kopačiek sú trenírky zadarmo.
2.	45 €	12 €	Pri kúpe kopačiek sú trenírky za polovičnú cenu.
3.	80 €	18 €	Všetok tovar za polovičnú cenu.

Marcelovi sa oplatí využiť ..... ponuku.

9. V školskom roku 2021/2022 navštevovalo školu 365 žiakov. Počas roka prestúpilo na inú školu 12 žiakov a na konci školského roka ukončilo štúdium 27 žiakov. Na začiatku školského roku 2022/2023 pribudlo do školy 35 prvákov.

Koľko žiakov navštevuje školu v školskom roku 2022/2023 ?

V novom školskom roku 2022/2023 navštevuje školu ..... žiakov.