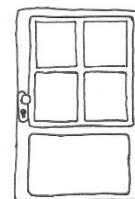
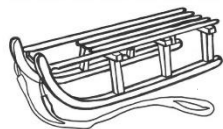


Pomnožné podstatné mená – pracovný list – 7. ročník

1. Pomenuj obrázok pomnožným podstatným menom:



2. Podčiarkni pomnožné podstatné mená:


kolobežky – vráta – ústa – svetlá – nádoby – husle – taniere – dostihy – kliešte – knihy – kiahne – prsia – plecia – vlasy – noviny – meniny

3. Urč rod a vzor pomnožných podstatných mien:

	rod	vzor		rod	vzor
nohavice			Donovaly		
noviny			hrable		
dvere			sánky		
vráta			okuliare		
pľúca			Vianoce		
Košice			narodeniny		

4. V ktorej možnosti majú všetky pomnožné podstatné mená rovnaký rod:

- a.) vráta, dvere, ústa, pľúca
- b.) nohavice, okuliare, dvere, hrable
- c.) Košice, sánky, noviny, dvere
- d.) husle, dostihy, kliešte, vlasy



5. Použi slovo hodiny vo vetách:

- a.) ako klasické podstatné meno - _____
- b.) ako pomnožné podstatné meno - _____

5. K indíciám doplň geografický názov, ktorý je pomnožným podstatným menom (pomôž si internetom):

mesto na Slovensku – metropola východného Slovenska - _____

najväčšie pohorie na Slovensku – mesto na severe SR - _____

okresné mesto v Nitrianskom kraji – rodisko herečky Magdy Pavelekovej - _____

najvyššie pohorie Európy – Mont Blanc - _____

obec na Slovensku – Národný žrebčín - _____

horské pásmo – Francúzsko a Španielsko - _____

okresné mesto – srdce Zemplína - _____

obec v okrese Banská Bystrica – lyžiarske stredisko - _____